

平成30年度 一般入学試験問題

社 会

注 意 事 項

- 1 問題は1ページから16ページまであります。
- 2 試験時間は50分です。
- 3 試験開始の合図があるまでは、この問題冊子を開いてはいけません。
- 4 試験開始後、この問題冊子のページ不足・印刷の不鮮明などの不備に気づいた場合は、監督者に申し出てください。
- 5 解答はすべて解答用紙に記入してください。
- 6 解答用紙には、志望コース・クラス、出身中学校名、受験番号、氏名を必ず記入してください。

自由ヶ丘高等学校

1

次の各文や史料をみて、各問の答を、問3・問4・問6・問10・問15は文字で、問13は1～6から、その他は1～4から一つずつ選び、番号で答えよ。

弥生時代になると①稲作が伝えられ、本格的な農業の時代を迎えた。稲作とともに伝わった②金属器は生活に深くかかわるようになり、土器についても弥生土器がつくられ、広く使われるようになっていった。

人口が増えると、くにと呼ばれる政治的なまとまりをもった小国が現れた。③中国の歴史書には、「倭国」という名称で当時の日本のことが紹介されている。その後、④ヤマト政権の日本統一が進められていった。このころには朝鮮半島などからの⑤渡来人が日本に新しい文化をもたらした。

問1 下線部①について、**誤って述べたもの**はどれか。

- 1 木器や石器を主に使い、鉄器は使われなかった。
- 2 水をせき止め、川の水を農業用水として利用した。
- 3 稲が育つと、石包丁で稲刈りを行っていた。
- 4 刈り取った稲は、土器に入れて高床式倉庫で保存されていた。

<史料1>



問2 下線部②について、史料1にある、祭りや指導者の地位の高さを示すために用いられたものはどれか。

- 1 銅鏡
- 2 銅剣
- 3 銅鐸
- 4 銅矛

問3 下線部③について述べた次の文にあてはまる(ア)の国名、(イ)の人名をそれぞれ漢字で答えよ。

『魏志』倭人伝には、「倭国には争いがたえなかったが、(ア)の女性(イ)を女王にしてようやくおさまった。彼女は魏に使いを送り、金印などを与えられた」と記してある。

問4 下線部④は、近畿地方の有力な豪族が支える強力な勢力となった。王や豪族の墓として作られた史料2の形の古墳を何というか。漢字で答えよ。

問5 下線部⑤として、**誤っているもの**はどれか。

- 1 須恵器
- 2 土偶
- 3 漢字
- 4 儒教

<史料2>



6世紀ごろ、中国は隋によって統一され、7世紀に唐がおこった。唐代には律令を整備し、役所のしくみが整えられた。唐の都長安は国際都市として栄え、周辺諸国から多くの留学生が集まった。

□氏は、聖徳太子とともに政権を握り、天皇を中心とする国家のしくみを取り入れ、隋・唐の制度や仏教を留学生や僧に学ばせた。このころ栄えた文化を⑥飛鳥文化という。しかし、□氏の勢力が強まることを快く思っていなかったものにより争いがおこり、新たなリーダーのもと⑦大化の改新が行われた。

問6 □にあてはまる語句を漢字で答えよ。

問7 下線部⑥を代表する、史料3の像はどれか。

- | | |
|---------|----------|
| 1 弥勒菩薩像 | 2 釈迦如来像 |
| 3 百済観音像 | 4 阿弥陀如来像 |

問8 下線部⑦に関して、中大兄皇子とともに改革を進め、後に天皇から藤原姓を授けられたものはどれか。

- | | |
|---------|--------|
| 1 藤原不比等 | 2 藤原鎌足 |
| 3 藤原頼通 | 4 藤原道長 |

問9 7世紀におこったできごととして誤っているものはどれか。

- 1 小野妹子が遣隋使として派遣された。
- 2 壬申の乱がおこった。
- 3 白村江の戦いで日本軍が大敗した。
- 4 大宝律令が制定された。

<史料3>

この部分は、著作権の都合上、公開できません。

16世紀中ごろになると、戦国大名の中には、全国を支配しようとする者が現れた。その中心人物であった⑧織田信長や家臣の⑨豊臣秀吉が活躍した時代を、本拠地とした城から⑩安土・桃山時代と呼ぶ。このころ、⑪ヨーロッパ人の新航路の開拓や貿易が行われた。その後、⑫関ヶ原の戦いで天下を統一した徳川家康は、1603年に江戸幕府を開き、⑬武士、農民の統制や⑭外国との貿易を積極的に行うようになった。しかし、キリシタンの急増がスペインやポルトガルによる侵略と考えられたことから幕府は⑮外国との交流を制限していった。

問10 下線部⑧に関する次の文の□にあてはまる語句を漢字4字で答えよ。

足利義昭を将軍にたて京都に入ったのち、義昭を排除し政治の実権を握った。城下では商人を呼び、自由な商売を行う□の政策を行う一方、自分に従わない勢力には厳しい態度をとった。

問11 下線部⑨が行った、農民の一揆を防ぎ兵農分離を進めたものはどれか。

- 1 御成敗式目 2 太閤検地 3 徳政令 4 刀狩

問12 下線部⑩に活躍した人物と関連する語句の組み合わせとして正しいものはどれか。

- 1 世阿弥 — 浄瑠璃 2 狩野永徳 — 屏風絵
3 千利休 — 水墨画 4 雪舟 — 茶の湯

問13 下線部⑪に関して、次のA～Cのできごとを、年代の古い順に並べたものはどれか。

- A マゼラン一行が世界一周を達成する。 B 種子島に鉄砲が伝来する。
C ザビエルが日本にキリスト教を伝える。

- 1 A→B→C 2 A→C→B 3 B→A→C
4 B→C→A 5 C→A→B 6 C→B→A

問14 下線部⑫に関して、次の表の(A)、(B)にあてはまる年代と人物の組み合わせとして正しいものはどれか。

おこった年	(A) 年
主要人物	徳川方：徳川家康 豊臣方：(B)

- 1 (A) 1603 (B) 明智光秀 2 (A) 1600 (B) 石田三成
3 (A) 1603 (B) 石田三成 4 (A) 1600 (B) 明智光秀

問15 下線部⑬に関して、史料4は1615年に
出された法令であるが、これを何というか。

問16 下線部⑭について、幕府は許可証を発行
し、東南アジアとの貿易を活発化させてい
った。この貿易はどれか。

- 1 日宋貿易 2 勘合貿易
3 朱印船貿易 4 南蛮貿易

問17 下線部⑮に関して、ポルトガル船の来航を禁止した鎖国下の日本で貿易を許された
国は中国とどこか。

- 1 オランダ 2 イギリス 3 アメリカ 4 ロシア

<史料4>

- 一 学問と武道にひたすら精を出すよう
にしなさい。
- 一 諸国の城は、修理する場合であっても、
必ず幕府にもうし出ること。まして新
しい城をつくることは厳しく禁止する。
- 一 幕府の許可なしに、婚姻を結んでは
ならない。 (部分要約)

2

自由ヶ丘高校のJ君は、夏休みを利用し、沖縄・北海道の歴史について調べた。次の文章は、彼がまとめたレポートの一部である。各問の答を、問1・問3・問6は文字で、その他は1～4から一つずつ選び、番号で答えよ。

(沖縄の歴史)

琉球では、15世紀の初めに、①琉球王国が成立し、独自の文化を発展させました。また、日本や中国、朝鮮半島、東南アジアにも船を送り、産物をやりとりする中継貿易で栄えました。

明治政府は、琉球を日本の領土にしようと、まず琉球藩をおき、台湾に漂着した琉球の漁民たちが殺害された事件を理由に、②台湾に出兵しました。1879年には軍隊を送って③琉球藩を廃止し、沖縄県を設けました。

佐藤栄作内閣はアメリカ政府と交渉を進め、④沖縄が日本に復帰しました。この過程で、核兵器を「持たず、つくらず、持ちこませず」という非核三原則が国の方針となりました。

(北海道の歴史)

15世紀には、北海道の南部に和人が移り住み、館とよばれる根拠地をつくって、⑤アイヌ民族との交易を行いました。

北方の開拓と防備に力を入れた明治政府は、1869年、蝦夷地を北海道と改め、⑥開拓使という役所をおきました。しかし、開拓が進むにつれて、先住民族であるアイヌの人たちは漁や狩りの場をうばわれたため、政府は、1899年()を制定しましたが、アイヌ民族に対する差別はその後も続きました。

問1 下線部①の王が居城として用いるようになった、世界遺産にも登録されている写真の建築物を何というか。漢字で答えよ。

<写真>



問2 下線部②と同じ世紀に明治政府が結んだ条約a～dを、年代の古い順に並べたものはどれか。

- a 樺太・千島交換条約
- b 日清修好条規
- c 下関条約
- d 日朝修好条規

- 1 a → b → c → d
- 2 b → a → d → c
- 3 c → d → a → b
- 4 d → c → b → a

問3 下線部③のできごとを何というか。漢字で答えよ。

問4 下線部④よりも前におこったできごととして、誤っているものはどれか。

- 1 日ソ共同宣言が調印され、ソ連との国交が回復した。
- 2 中国との国交を正常化し、日中平和友好条約を結んだ。
- 3 日韓基本条約を結び、韓国政府を朝鮮半島唯一の政府として承認した。
- 4 サンフランシスコ平和条約が発効し、日本は独立を回復した。

問5 下線部⑤に関して、次の文中の(a)～(c)にあてはまる語句の組み合わせとして、正しいものはどれか。

17世紀、蝦夷地の南端に領地を持つ(a)藩は、アイヌの人々との交易を独占し、大量の(b)などと交換し、大きな利益を得ました。これに不満を持ったアイヌの人々は、17世紀後半、首長の(c)を中心に戦いをおこしました。

- 1 (a) 安藤 (b) 鮭・昆布 (c) コシャマイン
- 2 (a) 安藤 (b) 鯉・あわび (c) シャクシャイン
- 3 (a) 松前 (b) 鮭・昆布 (c) シャクシャイン
- 4 (a) 松前 (b) 鯉・あわび (c) コシャマイン

問6 下線部⑥が開拓にあたらせた土族たちを何というか。漢字で答えよ。

問7 文中の()にあてはまる語句はどれか。

- 1 北海道旧土人保護法
- 2 場所請負制
- 3 アイヌ文化振興法
- 4 商場知行制

3

略地図と資料をみて、各問の答を、問4は文字で、その他は1～4から一つずつ選び、番号で答えよ。

問1 資料1は、略地図中のA・C・D・Fの産業別就業人口割合を示したものである。D国にあてはまるものはどれか。

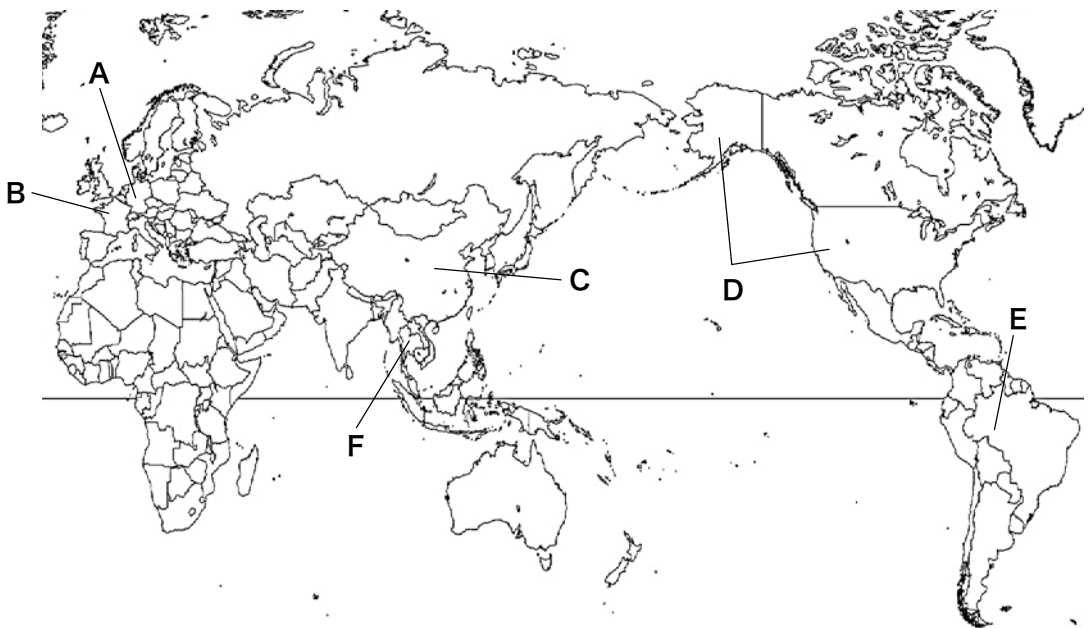
問2 資料2は、略地図中のA・B・C・Eの発電量内訳である。E国にあてはまるものはどれか。

問3 資料3は、米の生産量、米の輸出量、小麦の生産量、小麦の輸出量の上位4か国を示したものである。小麦の生産量にあてはまるものはどれか。

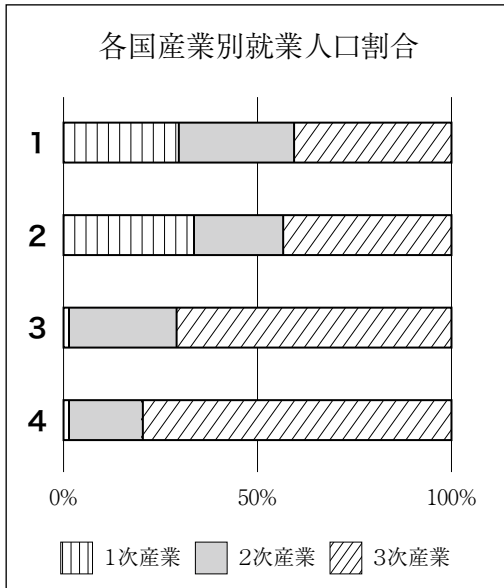
問4 略地図中のFが加盟している1967年に結成されたものは何か。アルファベット大文字で答えよ。また、Fの国名を答えよ。

問5 資料4は、各気候区がいくつかの大陸においてどれくらい面積を占めているかまとめたものである。1～4の大陸は、オーストラリア・南アメリカ・アフリカ・ユーラシアのいずれかである。アフリカにあてはまるものはどれか。

<略地図>

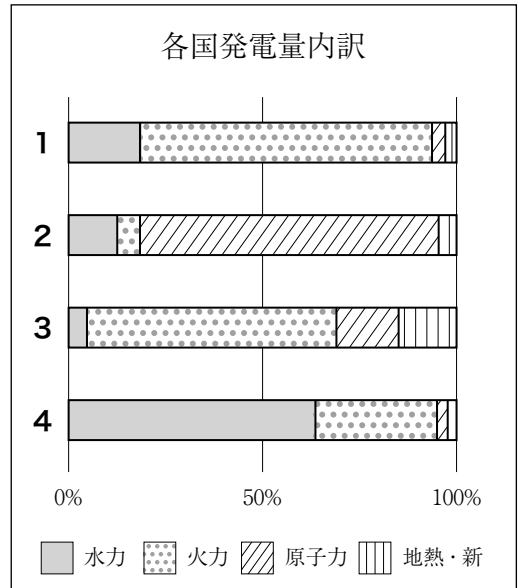


<資料 1>



(2014, 15年 データブックオブ・ザ・ワールド2017より作成)

<資料 2>



(2014年 世界国勢図会2016/2017より作成)

<資料 3>

	1位	2位	3位	4位
1	インド	F	ベトナム	パキスタン
2	C	インド	ロシア	D
3	D	カナダ	B	オーストラリア
4	C	インド	インドネシア	バングラデシュ

(2014年 世界国勢図会2016/2017より作成)

<資料 4>

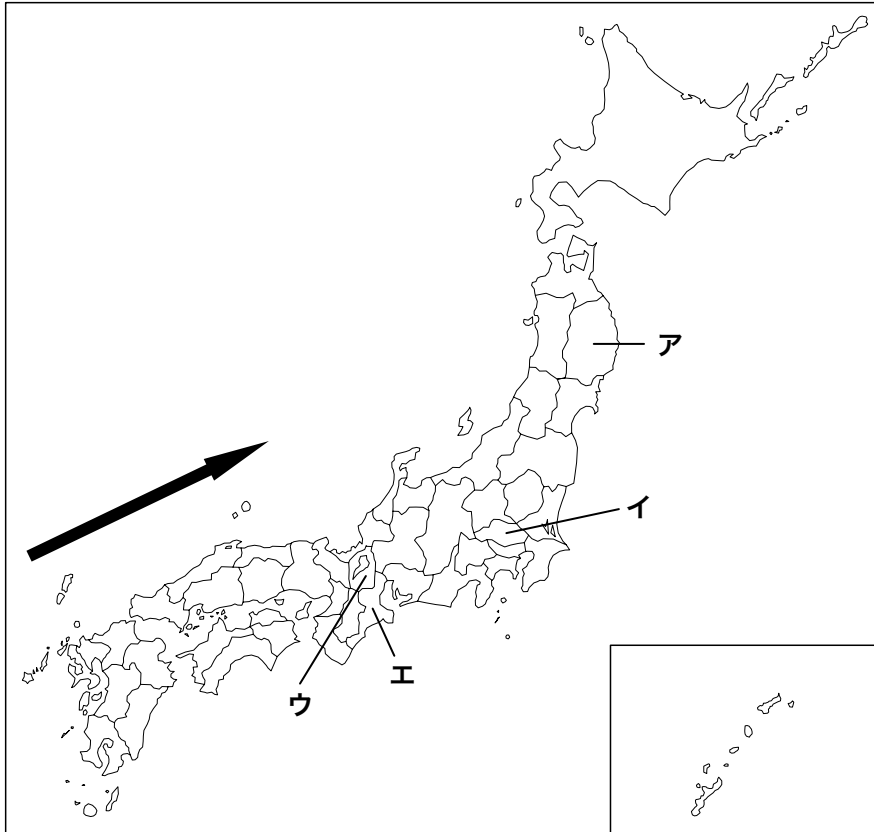
	最も広い気候区	2番目に広い気候区	3番目に広い気候区
1	サバナ	熱帯雨林	温暖湿潤
2	砂漠	ステップ	温暖湿潤
3	砂漠	ステップ	熱帯雨林
4	亜寒帯湿潤	ステップ	亜寒帯冬季少雨

(データブックオブ・ザ・ワールド2017年より作成)

4

略地図と資料をみて、各問の答を、問1・問3（1）は文字で、その他は1～4から一つずつ選び、番号で答えよ。

<略地図>



問1 日本が属する造山帯名を答えよ。

問2 略地図中の矢印は、ある海流の位置を示したものである。この海流の名称と、海水温による分類の組み合わせとして、正しいものはどれか。

- | | |
|-----------|-----------|
| 1 日本海流・寒流 | 2 対馬海流・寒流 |
| 3 日本海流・暖流 | 4 対馬海流・暖流 |

問3 略地図中**ア**～**エ**で示している県について、次の問いに答えよ。

- (1) **ア**～**エ**の中から1つ選び、県名と県庁所在地名を答えよ。
- (2) 資料1は**ア**～**エ**の人口、人口密度の推移、山地と湖沼・河川の面積、農業産出額、製造品出荷額を示したものである。**エ**にあてはまるものはどれか。

<資料1>

	人口 (千人)	人口密度の推移 (人/㎢)		山地と湖沼・河川 の面積 (㎢)		農業 産出額 (億円)	製造品 出荷額 (億円)
		1970年	2015年	山地	湖沼・河川		
1	1,816	267.3	314.5	3,704	181	1,056	105,761
2	1,413	221.6	351.7	1,949	766	554	68,326
3	7,267	1017.7	1913.4	1,230	211	1,902	125,104
4	1,280	89.8	83.8	11,021	189	2,352	22,843

(データでみる県勢2017より作成)

問4 資料2は、わが国の食料自給率の推移を示したものである。この資料から読み取れることとして**誤っているものはどれか**。

<資料2>

	1960年	1980年	2000年	2014年
米	102%	100%	95%	97%
野菜	100%	97%	81%	79%
肉類	91%	81%	52%	55%
果実	100%	81%	44%	42%
小麦	39%	10%	11%	13%

(日本国勢図会2017/18より作成)

- 1 2014年は1960年に比べて、すべての品目において自給率が低下している。
- 2 小麦以外の品目の自給率は、1960年から1980年にかけてよりも、1980年から2000年にかけてのほうが下がり大きい。
- 3 この5品目の自給率の平均をとると、すべての年において、60%を超えている。
- 4 2014年は2000年に比べて、3つの品目において自給率が向上している。

5

次の文をみて、各問の答を、問2は文字で、問1は1～6から一つ、その他は1～4から一つずつ選び、番号で答えよ。

中学校生活もあと2か月、3年生の夏までですが、ちょっと振り返ってみましょう。

まずは1年生の4月、アップルウォッチが発売されています。パソコン、携帯電話、スマートフォン、タブレット型端末……と、情報端末が使いやすいものになれば、おのずと主な①情報源も変わっていきますね。

7月、又吉直樹さんの芥川賞受賞。「火花」は読みましたか。官営八幡製鉄所の施設や遠賀川水源地ポンプ室など、明治日本の産業革命遺産が世界遺産に登録されたのもこの月です。

9月、ラグビーW杯における日本代表の歴史的快挙でわいた一方、②安全保障関連法（平和安全法制）が成立しています。

1月、個人番号により納税実績や社会保障などを一元管理する制度「マイナンバー制度」の利用が開始されました。

2年生の4月、熊本地震が発生してしまいました。

6月、改正公職選挙法が施行されました。選挙権をもつのはそんなに先の話ではありません。政治に関心を持ってくださいね。

7月、「ポケモンGO」GoGo!

8月、リオ五輪と「君の名は。」で感動をもらいました。

10月、話題はノーベル生理学・物理学賞の大隅先生と「PPAP」でした。

12月、SMAP解散。

1月、③アメリカ大統領にトランプ氏が就任しました。

大統領といえば、韓国史上初の女性大統領であった朴槿恵（パク・クネ）大統領が、これまた韓国史上初の大統領罷免という結果になったのは3月でした。

そうそう、“横綱”稀勢の里の逆転連続優勝も大相撲の歴史に残るものでした。

3年生の4月、浅田真央選手引退。

5月、安倍首相は2020年東京五輪の開催をきっかけに④憲法改正を実現し、新憲法を施行する年にしたい考えを表明しました。

6月、「天皇退位に関する特例法」が成立。来年から皇太子さまが⑤天皇に即位され、同時に新元号に改まることとなります。それから、みなさんと同学年の藤井聡太四段が、注目を集める中、29連勝を達成し、将棋界の歴史を塗り替えました。

7月、「『神宿る島』宗像・沖ノ島と関連遺産群」が世界遺産に登録されました。

振り返りはここまでです。平成30年という、くぎりの年に高校生となるみなさん、世の中の動きにも注意を払いつつ、新しい3年間の自分史をつくってってください。

では、問題をしっかり解きましょう。

問1 下線部①に関連して、次の表は、5つのメディア（インターネット、SNS、テレビ、新聞、雑誌・書籍）の利点と欠点をまとめたものである。A～Cにあてはまるメディアを正しく並べたものはどれか。

	利点	欠点
A	情報量が多く、伝達スピードが速い。	膨大な情報が存在するため、情報源の信頼度が低い場合がある。
	情報源の信頼度が高い。	1日で媒体価値を失う。色の再現性が劣る。
B	視聴覚に訴えるので、情報伝達力に優れている。	情報の保存や取り出しに手間がかかることが多い、情報にかたよりがある場合がある。
	長期間、媒体価値を保つ。	内容やデータが相対的に古くなっていく。
C	身近な地域性の高い情報を得やすい。	情報にかたよりがあつたり、情報源の信頼度が低い場合がある。

- | | | | |
|---|-----------|-----------|---------|
| 1 | A：テレビ | B：インターネット | C：新聞 |
| 2 | A：テレビ | B：SNS | C：雑誌・書籍 |
| 3 | A：新聞 | B：SNS | C：雑誌・書籍 |
| 4 | A：雑誌・書籍 | B：インターネット | C：SNS |
| 5 | A：インターネット | B：テレビ | C：SNS |
| 6 | A：インターネット | B：テレビ | C：新聞 |

問2 次の文中の下線部を何というか。漢字とカタカナで答えよ。

「私たちは、高度情報社会で生活していくために、情報を正しく判断して活用する力や、情報を使う考え方・態度（情報モラル）を身につけねばならない。」

問3 次のA～Dは、下線部②を含めた日本の安全保障と国際貢献に関するできごとである。これをみて、下の問いに答えよ。

- A 安全保障関連法（平和安全法制）が成立
- B 対日講和条約と同時に日米安全保障条約に調印
- C 国際平和協力法（PKO協力法）が成立
- D イラク復興支援に自衛隊派遣

(1) A～Dのできごとを古い順に並べたとき、3番目にくるものを番号で答えよ。

1 A 2 B 3 C 4 D

(2) A～Dを順に説明した文のうち、正しく述べたものはどれか。

- 1 安全保障関連法の成立によって、これまで政府の憲法解釈で許されなかった自国が攻撃を受けた際の自衛権が認められることになった。
- 2 日米安全保障条約には、他国が日本の領土およびアメリカ本土を攻撃したときに、日米双方が共同作戦行動をとって防衛する義務が定められている。
- 3 国際平和協力法の成立によって、国連平和維持活動の一環としてはじめて、自衛隊がカンボジアに派遣された。
- 4 自衛隊の派遣は非戦闘地域に限定されるため、イラク戦争が終わって、国連の指導の下、イラクの国家再建を支援した。

問4 下線部③について、誤って述べたものはどれか。

- 1 連邦議会の解散権をもっていない。
- 2 連邦議会が可決した法案の拒否権をもっていない。
- 3 教書の議会送付権をもっている。
- 4 各省長官の任命権・罷免権の両方をもっている。

問5 下線部④にはいくつかの手続きが必要である。これらについて、正しく述べたものはどれか。

- 1 国会の発議は、衆議院の優越事項であり、衆議院で可決されれば、参議院で否決されても結果的になされる。
- 2 国会の発議には、両議院の議員をあわせた総議員の3分の2以上の賛成が必要である。
- 3 国民投票に関しての具体的な規定は、改正された公職選挙法に定められている。
- 4 国民投票では、有権者総数の過半数ではなく、有効投票の過半数の賛成が必要である。

問6 下線部⑤について、象徴としての天皇は、国の政治についての権限を持たず、形式的・儀礼的な国事行為を行う。これに関して、**誤って述べたものはどれか。**

- 1 天皇は、国会の指名に基づいて内閣総理大臣を、内閣の指名に基づいて最高裁判所長官を任命する。
- 2 天皇の国事行為について、その責任は国権の最高機関である国会が負う。
- 3 天皇が国事行為を行うときは、内閣による助言と承認が必要である。
- 4 天皇は、国事行為以外にも、外国訪問や、国内巡行、外国の元首の接受など、公的な活動を行う。

6

次のA～Eの文をみて、各問の答を、問1・問3は文字で、その他は1～4から一つずつ選び、番号で答えよ。

- A** 店で財・サービスを買う場合、私たちには代金を支払う義務が生まれ、店には商品を引き渡す義務が生まれます。消費をするということは、たがいに納得して商品と代金を交換する約束をかわしたことを意味し、これを①契約とよびます。
- B** 物価が持続的に(ア)することはインフレーション(インフレ)とよばれ、持続的に(イ)することはデフレーション(デフレ)とよばれます。インフレが起これば、一定のお金で買えるものやサービスの量が少なくなるので、お金の価値が(ウ)がります。そして、決まった所得しかない人や、預金をしている人が困ります。では、デフレになれば、お金の価値が(エ)がってみんなうれしいでしょうか。いいえ。デフレが起こるのは、不況でものが売れないせいかもしれません。そうだとすれば、②物価が(イ)して喜んでいるうちに、企業の倒産が増え、家計の収入が減り、失業が増えるかもしれません。
- C** 市場で決まる価格のほかに、国や地方公共団体によって決められる価格があります。これを③公共料金といいます。
- D** 日本企業で働く人は、諸外国に比べて、同じ企業で長期間働き、年齢とともに上がる賃金を受け取ってきました。しかし、経済のグローバル化によるはげしい競争や産業構造の変化、さらに労働者の高齢化などにもなって、④雇用や賃金のあり方を見直す企業が増えてきました。そのうごきは、バブル経済の崩壊以降、特に強まってきました。
- E** 政府が行う経済活動を財政とよびます。財政の収入(歳入)は、原則的に国民が義務として納める税金で支えられ、税金で不十分な場合は、法律に基づいて発行される国債で補われます。⑤財政の支出(歳出)は、国全体に対する公共的な事業のために使われます。

問1 下線部①について、一度結んだ契約でも、訪問販売や電話勧誘販売の場合、8日以内であれば、契約の取り消しができる。これを何というか。**カタカナ**で答えよ。

問2 文中の(ア)～(エ)に入る語句の組み合わせとして、正しいものはどれか。

- 1 (ア) 上昇 (イ) 下落 (ウ) 下 (エ) 上
- 2 (ア) 下落 (イ) 上昇 (ウ) 上 (エ) 下
- 3 (ア) 下落 (イ) 上昇 (ウ) 下 (エ) 上
- 4 (ア) 上昇 (イ) 下落 (ウ) 上 (エ) 下

問3 下線部②のように、デフレにより不況が深刻化し、経済が悪循環におちいることを何というか。**カタカナ**で答えよ。

問4 下線部③について、国会や政府が決定するものはどれか。

- 1 社会保険診療報酬
- 2 公立学校授業料
- 3 高速自動車国道料金
- 4 国内航空運賃

問5 下線部④について、現代の日本の状況を述べたものとして、**誤っているもの**はどれか。

- 1 労働者の能力や成果を賃金に反映させる成果主義をとる企業が現れた。
- 2 転職がめずらしくなくなり、企業も中途採用を受け入れることが多くなった。
- 3 グローバル化によって、多様な外国人労働者が働いており、その受け入れ方が議論になっている。
- 4 現在、日本で働く人の5割以上は、パートタイム、アルバイト、派遣社員、契約社員などの非正規雇用とよばれる働き方をしている。

問6 下線部⑤のうち、現在、国の予算における一般会計内訳で、多く配分されている順番として、正しいものはどれか。

- 1 国債費→社会保障関係費→地方交付税交付金→防衛関係費
- 2 国債費→社会保障関係費→防衛関係費→地方交付税交付金
- 3 社会保障関係費→国債費→地方交付税交付金→防衛関係費
- 4 社会保障関係費→国債費→防衛関係費→地方交付税交付金

一般入学試験問題 社会 解答用紙

志望コース・クラス(番号を○でかこんでください)

1. スーパー特進 2. 特進Ⅰ類 3. 特進Ⅱ類 4. アドバンス

出身中学校

受験番号

フリガナ

中学校

氏名

解答記入欄

社会
得点

1	問 1	問 2	問 3				問 4	
			(ア)	(イ)				
	問 5	問 6	問 7	問 8	問 9	問 10		
	問 11	問 12	問 13	問 14	問 15		問 16	問 17

小計

2	問 1		問 2	問 3		問 4	問 5
	問 6		問 7				

小計

3	問 1	問 2	問 3	問 4		問 5
				国名		

小計

4	問 1		問 2	問 3		問 4
	造山帯			(1)		(2)
				県名	県庁所在地名	
		県	市			

小計

5	問 1	問 2		問 3		問 4	問 5	問 6
				(1)	(2)			

小計

6	問 1		問 2	問 3		問 4
	問 5	問 6				

小計