

令和4年度 一般入学試験問題

社 会

注 意 事 項

- 1 問題は1ページから14ページまであります。
- 2 試験時間は50分です。
- 3 試験開始の合図があるまでは、この問題冊子を開いてはいけません。
- 4 試験開始後、この問題冊子のページ不足・印刷の不鮮明などの不備に気づいた場合は、監督者に申し出てください。
- 5 解答はすべて解答用紙に記入してください。
- 6 解答用紙には、志望クラス、出身中学校名、受験番号、氏名を必ず記入してください。

自由ヶ丘高等学校

1

次の各文を読んで、各問の答を、問4・問5・問8・問13(1)は文字で、問2は1～6から、その他は1～4から一つずつ選び、番号で答えよ。

氷期の終わりごろに日本を含む東アジアで土器が発明されたが、日本では①縄文時代に縄を転がした文様を特色とする縄文土器が使われていた。

古代の日本の様子が②中国の歴史書に記されていることや、③古墳時代に日本が④朝鮮半島の国々と交渉をもった記録が見られることから、古代の日本と中国や朝鮮半島との間には交流があったことがうかがえる。

問1 下線部①の人々の生活に関する(ア)、(イ)の文について、その正誤の組み合わせとして、正しいものはどれか。

(ア) 簡単な小屋や洞窟に住んでおり、定住することはなかった。

(イ) 石器だけでなく、弓矢やイヌを狩りに使うようになった。

- 1 (ア) 正 (イ) 正 2 (ア) 正 (イ) 誤
3 (ア) 誤 (イ) 正 4 (ア) 誤 (イ) 誤

問2 下線部②に見られる倭(日本)に関する次のa～cの内容を、年代の古い順に並べたものはどれか。

a 讚・珍・済・興・武の5代の王が南朝に使いを送った。

b 奴の国王が後漢に使いを送り、皇帝から金印などを与えられた。

c 卑弥呼が魏に使いを送り、金印と銅鏡100枚などを与えられた。

- 1 a→b→c 2 a→c→b 3 b→a→c
4 b→c→a 5 c→a→b 6 c→b→a

問3 下線部③につくられていた古墳に関して、**誤って述べたもの**はどれか。

1 前方後円墳は北海道から九州にかけて分布している。

2 日本最大の前方後円墳は大仙古墳(仁徳陵古墳)である。

3 古墳の中には、武具や馬具が納められたものがある。

4 古墳の中には、石室に絵が描かれているものがある。

問4 下線部④のうち、紀元前後に朝鮮半島北部におこり、勢力をのぼして百済や新羅と争ったが、唐と新羅によって7世紀半ばに滅ぼされた国は何か。**漢字**で答えよ。

鎌倉幕府は⑤承久の乱の後、後鳥羽上皇に味方した貴族や西日本の武士の領地を取り上げ、新たに東国の御家人を地頭に任命した。地頭になった武士たちは⑥荘園や公領の農民たちを支配した。

⑦鎌倉時代には、貴族を中心とした伝統文化を基礎に、武士や民衆にもわかりやすい文化が発達した。文学では武士の活躍を描いた⑧軍記物語がつくられるとともに、仏教でも人々のなやみにこたえて、⑨わかりやすく信仰しやすい教えが生み出された。

問5 下線部⑤の後に朝廷を監視し、西日本の御家人を統制するために設置された役所を何というか。漢字で答えよ。

問6 下線部⑥に関する(ア)、(イ)の文について、その正誤の組み合わせとして、正しいものはどれか。

(ア) 作物の生産性をあげるために、肥料として干鰯^{ほしか}を使用した。

(イ) 農民たちは地頭のきびしい支配に対し、領主に訴え出ることがあった。

- 1 (ア) 正 (イ) 正 2 (ア) 正 (イ) 誤
3 (ア) 誤 (イ) 正 4 (ア) 誤 (イ) 誤

問7 下線部⑦に再建された、源平の争乱で焼け落ちた寺はどれか。

- 1 法隆寺 2 東大寺 3 延暦寺 4 金剛峯寺

問8 下線部⑧に関して、次の史料の内容を語り広めた人を何というか。

<史料>

祇園精舎の鐘の声、諸行無常の響きあり。沙羅双樹の花の色、盛者必衰のことわりをあらわす。おごれる人も久しからず、ただ春の夜の夢のごとし。たけき者もついにはほろびぬ、ひとえに風の前の塵に同じ。

問9 下線部⑨に関して述べた次の文中(A)、(B)にあてはまる語句の組み合わせとして、正しいものはどれか。

一遍は(A)を開き、おどり念仏をおこなって人々に念仏信仰をすすめた。また、(B)は法華経の題目(南無妙法蓮華経)を唱えれば人も国家も救われると説いた。

- 1 (A) 時宗 (B) 道元 2 (A) 時宗 (B) 日蓮
3 (A) 禅宗 (B) 道元 4 (A) 禅宗 (B) 日蓮

18世紀の前半に8代将軍となった徳川吉宗は、⑩ 享保の改革とよばれる政治をおこなった。19世紀に入ると、江戸の庶民を担い手として発展した⑪ 化政文化が生まれたが、⑫ 天保の改革では風紀や出版を統制し、人々のぜいたくを禁じた。

1858年に⑬ 日米修好通商条約によって欧米諸国との貿易が始まると、人々の生活は苦しくなった。欧米諸国から政治や経済面で圧迫を受けたことで、尊王論と攘夷論が結びつき、⑭ 長州藩を中心に尊王攘夷運動がおこなわれた。

問10 下線部⑩に関して、**誤って述べたもの**はどれか。

- 1 漢訳されたすべてのヨーロッパの書物の輸入を認めた。
- 2 目安箱を設け、民衆の意見を政治の参考にした。
- 3 新田開発を積極的におこない、財政の立て直しに努めた。
- 4 武士に儉約をすすめて、才能のある武士を上級の役人に取り立てた。

問11 下線部⑪に関して、**誤って述べたもの**はどれか。

- 1 小林一茶が農民の感情をよみ、俳諧を民衆の間に広めた。
- 2 十返舎一九が『東海道中膝栗毛』で旅の道中をこっけいに描いた。
- 3 喜多川歌麿が浮世絵で美人画を描き、人気を集めた。
- 4 俵屋宗達がやまと絵の伝統を生かし、装飾画を描いた。

問12 下線部⑫に関して、**正しく述べたもの**はどれか。

- 1 商業の発展のため、百姓の都市への出稼ぎを奨励した。
- 2 海防の備えから、江戸や大坂周辺の大名領を直轄領にしようとした。
- 3 物価上昇をおさえるため、株仲間の結成を認めた。
- 4 異国船打払令を出し、外国船に対して強硬な方針でのぞんだ。

問13 下線部⑬に関して、

- (1) この条約を結んだ当時の大老は誰か。**漢字**で答えよ。
- (2) この条約の後におこったできごとに関する(ア)、(イ)の文について、その正誤の組み合わせとして、正しいものはどれか。
(ア) 日本の主な輸入品は、生糸や茶であった。
(イ) 日本では外国との金銀比率の違いにより、金が大量に流入した。

- | | | | |
|---------|-------|---------|-------|
| 1 (ア) 正 | (イ) 正 | 2 (ア) 正 | (イ) 誤 |
| 3 (ア) 誤 | (イ) 正 | 4 (ア) 誤 | (イ) 誤 |

問14 下線部 ⑭ に関して，正しく述べたものはどれか。

- 1 砂糖の専売によって財政の立て直しに成功した。
- 2 藩士がイギリス人商人たちを殺傷するという生麦事件をおこした。
- 3 イギリス・フランス・アメリカ・オランダの四国連合艦隊に攻撃された。
- 4 幕府の政治を批判したとして，藩の中心にいた高杉晋作が処刑された。

2

自由ヶ丘高校のJ君は、夏休みを利用し、グローバル化の進展について調べた。次の文章は、彼がまとめたレポートの一部である。各問の答を、問1・2・6は文字で、問4は記号と番号で、その他は番号で答えよ。

現在、世界の一体化が急速に進んでいます。国境をこえる経済活動が盛んになり、情報はインターネットや衛星放送などで世界中を瞬時に移動します。経済の競争が激しくなると、国家の壁を低くして、協力しようとする地域統合の動きが活発になりました。ヨーロッパでは1993年に① ヨーロッパ連合（EU）が発足し、その後、多くの国で統一貨幣ユーロが導入され、国境も自由にこえられるようになりました。

グローバル化が進む中、日本は、② 国連に協力するとともに、平和主義をうたう憲法の理念を尊重しながら、③ 国際貢献に取り組んでいます。特に、④ 戦争による唯一の被爆国として、⑤ 核兵器の廃絶をはじめとする軍縮には積極的に取り組んできました。

地球環境の問題も重要です。例えば、地球温暖化は、海面の上昇や農作物の不作など、世界各地で深刻な問題を引き起こしています。そこで、その原因とされる二酸化炭素などの温室効果ガスの排出削減に向けて、の採択（1997年）に見られるような国際的な取り組みにも参加しています。

問1 下線部①の前身となる、1967年に発足した機関を答えよ。

問2 下線部②に関して、次の文はサンフランシスコ会議において調印された条約の一部である。条約名を答えよ。

国際の平和及び安全を維持すること。そのために、平和に対する脅威^{きょうい}の防止及び除去と侵略行為その他の平和の破壊の鎮圧とのため有効な集団的措置をとること並びに平和を破壊するに至る虞^{おそれ}のある国際的の紛争又は事態の調整または解決を平和的手段^かによって且つ正義及び国際法の原則に従って実現すること。

問3 下線部③に関して、自衛隊の活動として、**あてはまらないものはどれか。すべて**答えよ。

- 1 1992年に初めて国連平和維持活動に参加した。
- 2 湾岸戦争の際に、後方支援としてイラク攻撃に参加した。
- 3 朝鮮戦争の際に、韓国を支援するために派遣された。
- 4 テロ対策としてインド洋に派遣された。
- 5 人道復興支援対策としてイラクに派遣された。
- 6 シベリア抑留における捕虜救助に参加した。

問4 下線部④に関して、a～dから二つを選び、それぞれの説明文として正しいものを答えよ。

a 日中戦争 b 太平洋戦争 c 日露戦争 d 第一次世界大戦

- 1 終戦の翌年にパリ講和会議が開かれ、条約が結ばれた。
- 2 他の連合国とともに、7万人をこえる軍隊をシベリアに派遣した。
- 3 北朝鮮が北緯38度線を越えて南下したのをきっかけに戦争が始まった。
- 4 ポーツマス条約において賠償金を得ることができなかった。
- 5 終戦の翌年に南京を首都とする中華民国が成立した。
- 6 ミッドウェー海戦の敗北を機に、日本の戦況は不利になってきた。
- 7 ドイツのポーランド侵攻をきっかけに戦争が始まった。
- 8 北京郊外の盧溝橋での衝突をきっかけに戦争が始まった。

問5 下線部⑤に関して、年代の古い順に並べたものはどれか。

- a 包括的核実験禁止条約
- b 部分的核実験禁止条約
- c 核拡散防止条約
- d 中距離核戦力 I N F 全廃条約

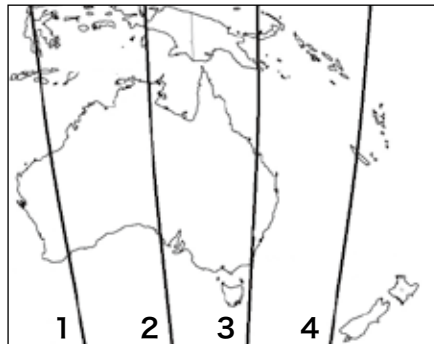
- 1 d→b→a→c 2 d→c→b→a
- 3 b→d→a→c 4 b→c→d→a

問6 文中の にあてはまる語句を漢字で答えよ。

3

略地図と資料をみて、各問の答を、問2は①～⑥から二つ、問4は1～8から、問5は1～6から、その他は1～4から一つずつ選び、番号で答えよ。

<略地図1>



問1 略地図1中1～4は、15度ごとの経線を表している。日本の標準時である、東経135度にあたるものはどれか。

問2 次の文はオセアニアの自然環境を説明したものである。下線部①～⑥のうち、誤っているものが二つある。それらはどれか。

オセアニアは、オーストラリア、ニュージーランド、太平洋の島々をまとめた地域を指す。① オセアニアは全域が環太平洋造山帯に位置し、急峻な山脈が連なっている。中でも② ニュージーランドは地熱発電が盛んである。③ 太平洋にはサンゴ礁が多くみられ、美しい風景を求める観光客も多い。また④ オセアニアは全体的に温暖であり、冷帯や寒帯は存在しない。オーストラリアの気候は多岐にわたり、⑤ 内陸部ではステップや砂漠、西部では西岸海洋性気候が見られる。また、⑥ 北部ではサバナ気候、東部では温暖湿潤気候が見られる。

問3 次の資料は、オーストラリア、ニュージーランド、アメリカ、ブラジルの耕地・樹園地、牧場・牧草地の割合と世界における牛肉の輸出量の割合を示したものである。オーストラリアにあてはまるものはどれか。

※樹園地は果樹やコーヒー豆などを栽培する地域。

<資料>

(単位 %)

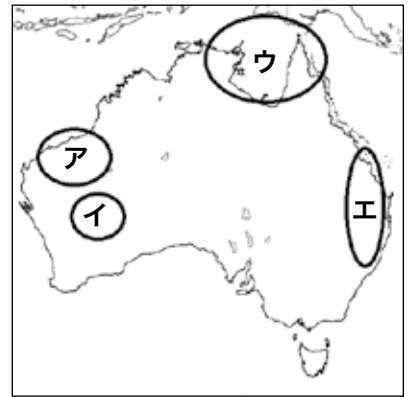
	耕地・樹園地	牧場・牧草地	牛肉の輸出量
1	7.6	20.6	15.0
2	4.0	44.3	13.1
3	17.5	26.8	11.4
4	2.4	38.0	5.1

(データブックオブザワールド2021年より作成)

問4 次の文はある鉱産資源についての説明である。略地図2はオーストラリアにおける鉄鉱石・ボーキサイト・金・石炭のいずれかの産地を示したものである。この鉱産資源と産地の組み合わせとして、正しいものはどれか。

<略地図2>

この資源は、かつて九州や北海道でも採掘されていた。オーストラリアでは地表を削って掘り下げていく露天掘りという方法によって、大規模で効率のよい採掘がおこなわれている。



- | | |
|----------------|-------------------|
| 1 資源名：鉄鉱石 産地：ア | 2 資源名：ボーキサイト 産地：イ |
| 3 資源名：鉄鉱石 産地：ウ | 4 資源名：ボーキサイト 産地：エ |
| 5 資源名：金 産地：ア | 6 資源名：石炭 産地：イ |
| 7 資源名：金 産地：ウ | 8 資源名：石炭 産地：エ |

問5 オセアニアの社会に関して述べた次の文中の(ア)～(ウ)にあてはまる語句の組み合わせとして、正しいものはどれか。

オセアニアには、国旗の中に(ア)国旗が描かれている国がある。これは、この地域が(ア)の植民地だったことの名残りである。

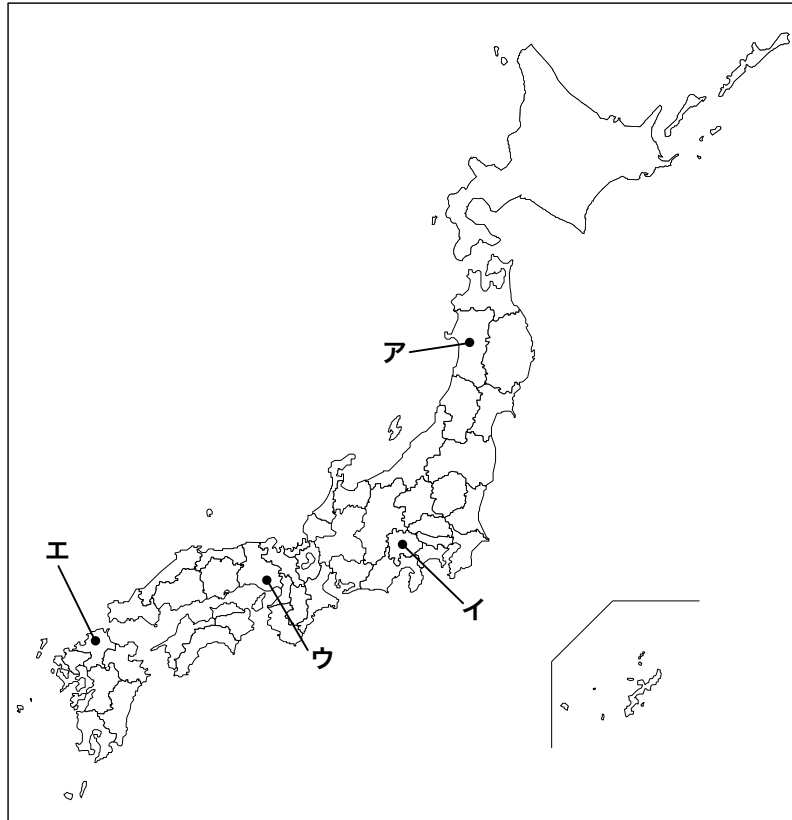
オーストラリアでは1970年代はじめまでは白人以外の移住を厳しく制限する(イ)がとられていたが、その後移民政策が変更され、多文化社会へと変化している。また、(ウ)を中心とする先住民の人々も多文化社会の大切な一員として、彼らの社会的・経済的地位の向上や独自の伝統文化を尊重するための努力も続けられている。

- | |
|-----------------------------------|
| 1 (ア) フランス (イ) アパルトヘイト (ウ) アボリジニー |
| 2 (ア) スペイン (イ) アパルトヘイト (ウ) マオリ |
| 3 (ア) イギリス (イ) 白豪主義 (ウ) アボリジニー |
| 4 (ア) フランス (イ) アパルトヘイト (ウ) マオリ |
| 5 (ア) スペイン (イ) 白豪主義 (ウ) アボリジニー |
| 6 (ア) イギリス (イ) 白豪主義 (ウ) マオリ |

4

略地図と表と資料をみて、各問の答を、問1・問3・問5は文字で、その他は1～4から一つずつ選び、番号で答えよ。なお、表は略地図中ア～エで示しているそれぞれの県のある都市の説明である。

<略地図>



<表>

A	この都市は、江戸時代の末に国際貿易港として開港した。1995年には、この都市を含む地域に① <u>地震</u> が発生し大きな被害を受けた。
B	②この都市がある <u>盆地</u> では、果樹栽培が盛んで、それを加工した製品や観光農園も人気である。
C	この都市に明治時代につくられた製鉄所を中心として、③ <u>工業地帯</u> が形成された。
D	この都市の夏の伝統行事として④ <u>米</u> の豊作への願いをこめた祭りがおこなわれている。

問1 略地図中ア～エのうち、県名と県庁所在地名が異なる県名をすべて答えよ。

問2 下線部①などの自然災害にそなえて、県や市町村で作成と配布がおこなわれている、ハザードマップについてまとめた下の文の(a)・(b)にあてはまる語句の組み合わせとして、正しいものはどれか。

ハザードマップには一般に(a)と避難する場所などの情報が示されている。自分たちでマップを作成する場合、地形図の利用が考えられるが、2万5千分の1の地形図と5万分の1の地形図とでは、(b)の地形図の方が同じ範囲をよりくわしくあらわせる。

- 1 (a) 過去の被害の回数 (b) 2万5千分の1
- 2 (a) 過去の被害の回数 (b) 5万分の1
- 3 (a) 予測される被害の範囲 (b) 2万5千分の1
- 4 (a) 予測される被害の範囲 (b) 5万分の1

問3 下線部②にもみられる、山地から川によって運ばれた土砂がふもとにたまってできた、果樹栽培に適している地形を何というか。漢字で答えよ。

問4 下線部③に関して、資料は京葉・東海・瀬戸内の各工業地域とCにある工業地帯の製造品出荷額を年別に示したものである。Cにある工業地帯にあてはまるものはどれか。

<資料>

(単位 億円)

	1990年	2000年	2010年	2018年
1	266,875	242,029	292,784	323,038
2	77,793	74,264	82,491	103,019
3	122,615	115,188	124,137	132,118
4	164,646	167,811	158,848	176,639

(日本国勢図会2021/22より作成)

問5 下線部④について、Dを含む地域は、現在でも米の生産がさかんであるが、1970年代から始められた、米の生産量を減らす政府の政策を漢字で答えよ。

5

次のA～Eの文をみて、各問の答を、問1・問6は文字で、その他は1～4から一つずつ選び、番号で答えよ。

- A** 遺伝子技術の進歩は、これまで治らないとされてきた病気の治療方法の発見や、病気の早期発見を助けています。一方で、自分らしく死を迎えたいとして延命治療をこぼむ(ア)や、不治の病による苦しみから解放されるための安楽死を認めてほしいという主張があります。
- B** 病気になったときに、病気について正しい説明を受け、理解したうえで、治療などの医療行為を自分の責任において選択する(イ)という考え方があります。また自分の死後に移植のため①臓器提供する意思をカードに記入して持ったりすることも、自己決定権を尊重するものです。
- C** 私たちが個人として尊重され、人間らしく生きるためには、物事を考え、行動できることが重要です。これを保障しているのが②自由権です。
- D** 日本国憲法は、「すべて国民は、(ウ)で(エ)な最低限度の(オ)を営む権利を有する。」として、生存権を定めています。国は、病気や失業、大規模な災害などにあい、自立した生活ができなくなった人に、日々の生活に必要な援助をする責任があることを意味しています。
- E** 全ての人間は平等な存在であり、平等なあつかいを受ける権利である平等権を持っています。しかし、③偏見に基づく差別が、今もなお残っています。

問1 文中の(ア)にあてはまる語句は何か。

問2 文中の(イ)にあてはまる語句として、正しいものはどれか。

- 1 インフォームド・コンセント 2 ノーマライゼーション
3 ポジティブ・アクション 4 シビリアン・コントロール

問3 文中の(ウ)～(オ)にあてはまる語句の組み合わせとして、正しいものはどれか。

- 1 (ウ)健康 (エ)文化的 (オ)暮らし
2 (ウ)健康 (エ)文化的 (オ)生活
3 (ウ)文化的 (エ)健康 (オ)生活
4 (ウ)文化的 (エ)健康 (オ)暮らし

問4 下線部①を記入できるものとして、あてはまらないものはどれか。

- 1 健康保険証 2 運転免許証
3 マイナンバーカード 4 パスポート

問5 下線部②について、**誤って述べたもの**はどれか。

- 1 信じたい宗教を信仰する自由は、精神の自由に分類される。
- 2 自分が住みたい場所に住む自由は、身体の自由に分類される。
- 3 法的に決められた罪でなければ処罰されないことは、身体の自由に分類される。
- 4 自由に研究し発表できる自由は、精神の自由に分類される。

問6 下線部③に関して、特定の民族や国籍の人を排斥したり、見下したりする言動を何というか。**カタカナ**で答えよ。

6

次の文と図をみて、各問の答を、問1は文字で、問5は記号と文字で、その他は1～4から一つずつ選び、番号で答えよ。

私の勤める会社には、20代の若者が5人いますが、私を含めた3人は（ ）雇用の形態で働いています。学生のA君は、来春の入社が決まっており、週に3日出社して、仕事を手伝ってくれています。別の会社から派遣されているB君は毎日朝からバリバリ働いています。① Cさんはベトナム人ですが、日本語もペラペラで、Dさんと同様、この会社に骨をうずめるつもりでいます。私もそのつもりですが、彼女たちとは違って、ずっと働けるかどうかは2年後の契約次第です。労働組合からも会社に働きかけてもらって、② 安心して働けるようになればと思っています。

問1 文中の（ ）にあてはまる語句を、**漢字3字**で答えよ。

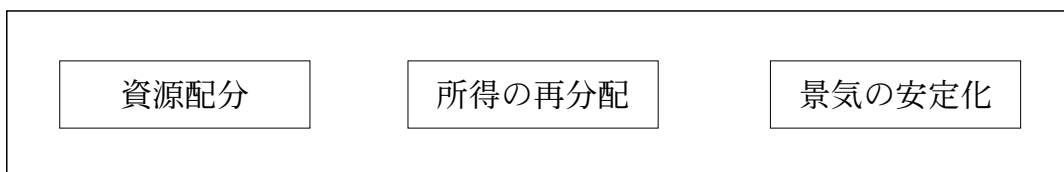
問2 下線部①に関して、現在の日本で働く外国人労働者について、正しく述べたものはどれか。

- 1 外国人労働者数の増減は、文化・言語の違いや受け入れ条件が他の先進国に比べて厳しいため、ここ10年は横ばい状態である。
- 2 外国人労働者数を国籍別でみると、出張や転勤といった、日本との往来が盛んなアメリカがしめる割合が最も高い。
- 3 少子化が進んでいる日本では、不可欠な労働力と見なしているが、外国人労働者の高齢化の問題を抱えている。
- 4 外国人労働者を、悪質な労働条件の下や他の日本人労働者よりも低賃金で働かせた例もあり、労働環境の整備や待遇改善が求められている。

問3 下線部②に関して、労働者の権利はさまざまな法律によって守られている。それらについて、正しく述べたものはどれか。

- 1 労働組合が使用者との団体交渉を求めた場合、使用者はこれをこばむことはできないことが、労働組合法に定められている。
- 2 使用者は労働者を解雇しようとする場合、少なくとも30日以上前に予告しなければならないことが、労働関係調整法に定められている。
- 3 労働組合と使用者の交渉がまとまらなかった場合、専門の機関に交渉の調整を求められることが、労働基準法に定められている。
- 4 使用者は、労働者に対して、毎週少なくとも2回の休日を与えなければならないことが、労働基準法に定められている。

<図>



問4 上の図は、「○○の三つの役割」を示している。○○にあてはまるものはどれか。

- 1 家計 2 金融 3 財政 4 市場

問5 次の各文の下線部 **a**～**f** には、誤った語句が用いられているところが三つある。その記号と訂正した語句を答えよ。

- ・資源配分の例としては、道路・公園・港・ダムなどの **a** 社会資本 や警察・消防・教育などの **b** 公共事業 の供給があげられる。
- ・所得の再分配の例としては、社会保障制度や **c** 累進課税 制度があげられる。社会保障においては、地域社会で互いに助け合う **d** 公助 の考え方が重要になる。
- ・景気の安定化の例としては、不況のとき、**e** 減税 や公共投資によって **f** 歳入 を増やすことで、景気を上向きにさせることがあげられる。

一般入学試験問題 社会 解答用紙

志望クラス (番号を○でかこんでください)						
1. スーパー特進 2. 特進 3. 進学						
出身中学校	受験番号			フリガナ		
中学校					氏名	

解答記入欄						社会 得点	
1	問 1	問 2	問 3	問 4		問 5	
	問 6	問 7	問 8		問 9	問 10	問 11
	問 12	問 13			問 14		
	(1)		(2)				
							小計
2	問 1		問 2		問 3		
	問 4		問 5	問 6			
	戦争	説明文	戦争	説明文			
							小計
3	問 1	問 2	問 3	問 4	問 5		
							小計
4	問 1				問 2		
	問 3		問 4	問 5			
							小計
5	問 1	問 2	問 3	問 4	問 5	問 6	
							小計
6	問 1	問 2	問 3	問 4			
	問 5						
	記号	語句		記号	語句		記号
							小計